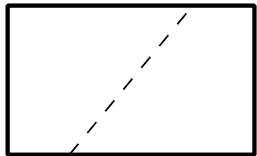
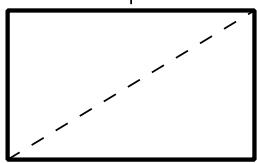
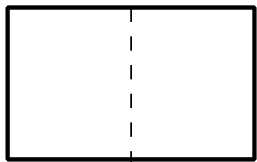
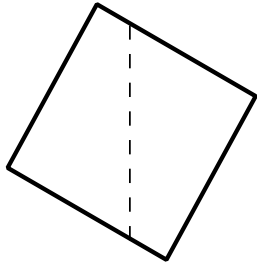
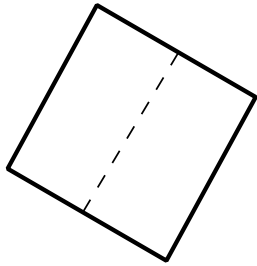
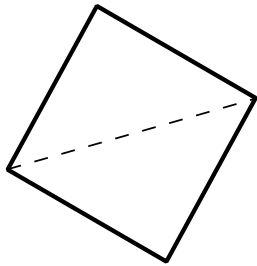
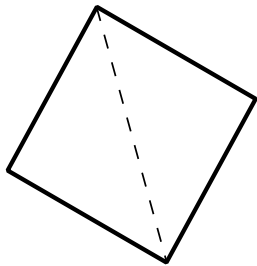


[۱۶] ریاضی هشتم

نام:

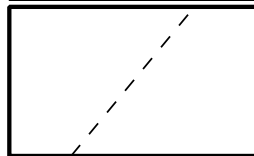
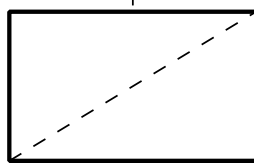
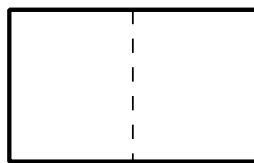
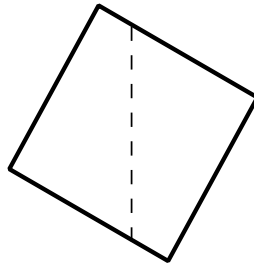
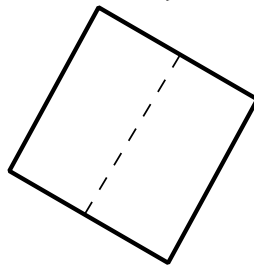
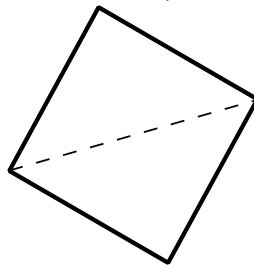
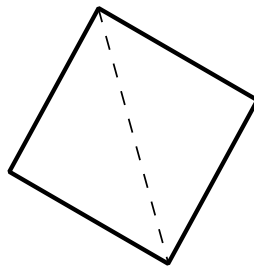
۱. رای هر کدام از شکل‌های زیر مشخص کنید که خطی که به صورت خطچین کشیده شده، خط تقارن هست یا نه. (اگر شک کردید، کاغذ را از روی خطچین تا کنید و مطمئن شوید)



[۱۶] ریاضی هشتم

نام:

۱. رای هر کدام از شکل‌های زیر مشخص کنید که خطی که به صورت خطچین کشیده شده، خط تقارن هست یا نه. (اگر شک کردید، کاغذ را از روی خطچین تا کنید و مطمئن شوید)



[۱۶] ریاضی هشتم

نام:

۱. برای هر کدام از شکل‌های زیر مشخص کنید که خطی که به صورت خطچین کشیده شده، خط تقارن هست یا نه. (اگر شک کردید، کاغذ را از روی خطچین تا کنید و مطمئن شوید)

