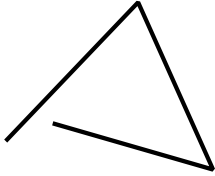
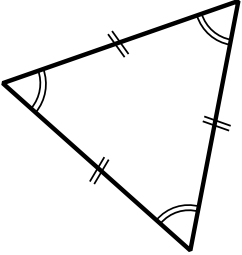
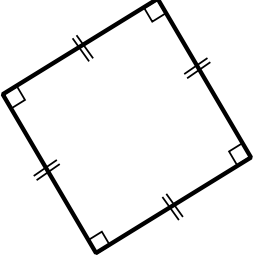



۱. در مورد هر کدام از شکل‌های زیر مشخص کنید که چندضلعی هست یا نه، مشخص کنید که منتظم است یا نه و مشخص کنید که محدب است یا مقعر.

محدب است یا مقعر؟	منتظم است یا نامنتظم؟	چندضلعی است؟	
			
			
			
			

محدب است یا مقعر؟	منتظم است یا نامنتظم؟	چندضلعی است؟	
			